

### Варіант 1

1. Крайня північна точка Австралії:  
А мис Байрон; Б мис Йорк;  
В мис Південно-Східний; Г мис Стіп-Пойнт.
2. Острів, який розташований на південь від Австралії:  
А Тасманія; Б Мадагаскар;  
В Нова Гвінея; Г Сулавесі.
3. Протока, яка відділяє Австралію від острова Нова Гвінея:  
А Гібралтарська; Б Торресова;  
В Басова; Г Баб-ель-Мандебська.
4. Тектонічна структура, яка лежить в основі материка Австралія:  
А давня складчаста область;  
Б молода складчаста область;  
В давня докембрійська платформа;  
Г молода платформа-плита.
5. Повітряні маси, які впливають на те, що материк Австралія є одним із найсухіших у світі:  
А помірні континентальні; Б екваторіальні;  
В тропічні континентальні; Г субекваторіальні.
6. Найбільша річка Австралії Мюррей улітку не пересихає, тому що поповнює свої води:  
А дощовими водами літнього мусону;  
Б талими сніговими водами з вершин Австралійських Альп;  
В підземними водами Великого Артезіанського басейну;  
Г талими водами льодовика на горі Косцюшко.
7. Вкажіть рядок з назвами частин Світового океану (моря, затоки, протоки), які омивають береги Австралії та острови Океанії й названі на честь їх дослідників:
- А Баренцове море, море Лаптевих, Берингова протока, Берингове море;  
Б Берингова протока, Гудзонова затока, Гудзонова протока, море Баффіна;  
В протока Дрейка, море Беллінсгаузена, море Амундсена, море Лазарева;  
Г Торресова протока, Басова протока, Тасманове море, протока Кука.
8. Природна зона, якої НЕМАЄ на материк Австралія:  
А тропічні пустелі; Б вологі екваторіальні ліси;  
В вічнозелені твердолисті ліси й чагарники; Г савани та рідколісся.
9. Вкажіть область земної кулі, яку називають Антарктикою:  
А Антарктида разом з прибережними водами та прилеглими островами;  
Б прилеглі до Антарктиди води і навколишні острови;  
В центральна частина Антарктиди;  
Г прибережна частина Антарктиди.
10. Вулкан, розташований на материк Антарктида:  
А Кіліманджаро; Б Косцюшко;  
В Еребус; Г Чімборасо.
11. Середня абсолютна висота підльодовикової поверхні Антарктиди:  
А 140 м; Б 410 м;  
В 1040 м; Г 2000 м.

12. Вкажіть назви тварин, які є представниками Антарктики:

- А** пінгвіни, тюлені, єхидни, качкодзьоби;
- Б** морські слони, морські леопарди, сині кити, пінгвіни;
- В** морські леопарди, пінгвіни, тапіри, пекарі;
- Г** білі ведмеді, морські слони, пінгвіни, коали.

А	Б	В	Г

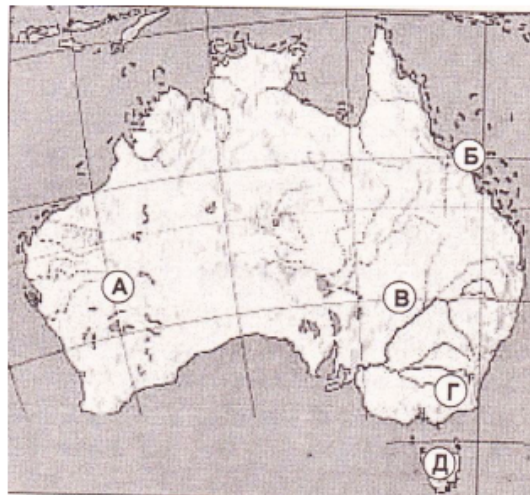
13. Вкажіть три ознаки, характерні для Центральної низовини Австралії:

- А** вкрита потужною товщею осадових відкладів;
- Б** охоплює більшу частину материка;
- В** переважають піщані та глинясті пустелі, сухі савани;
- Г** відбувається сезонна зміна екваторіальних і тропічних повітряних мас;
- Д** надра багаті на рудні корисні копалини;
- Е** поширені солоні озера та крики.

А	
Б	
В	
Г	
Д	
Е	

14. Встановіть відповідність між назвами форм рельєфу Австралії та буквами якими вони позначені на картосхемі:

- 1 Австралійські Альпи;
- 2 Західно-австралійське плоскогір'я;
- 3 Центральна низовина;
- 4 Великий Бар'єрний риф.



	А	Б	В	Г	Д
1					
2					
3					
4					

15. Встановіть відповідність між географічними об'єктами Австралії та їх назвами:

- 1 півострів;
  - 2 острів;
  - 3 протока;
  - 4 затока.
- А** Карпентарія;
  - Б** Бассова;
  - В** Велика Піщана;
  - Г** Тасманія;
  - Д** Кейп-Йорк.

	А	Б	В	Г	Д
1					
2					
3					
4					

16. Встановіть послідовність зміни географічних об'єктів уздовж східного узбережжя Австралії, починаючи від Торресової протоки:

- А** Тасманове море;
- Б** Коралове море;
- В** острів Тасманія;
- Г** Бассова протока.

	А	Б	В	Г	Д
1					
2					
3					
4					

17. Встановіть послідовність зміни природних зон Австралії, починаючи від пів нічного узбережжя материка:

- А** твердолисті вічнозелені ліси і чагарники;
- Б** перемінно-вологі ліси;
- В** пустелі і напівпустелі;
- Г** савани і рідколісся.

	А	Б	В	Г	Д
1					
2					
3					
4					

18. Австралія та Антарктида — найсухіші материки на Землі, однак мають чималі відмінності у зволоженні. Поясніть причини цього.

## Варіант 2

1. Крайня південна точка Австралії:

**А** мис Байрон;

**В** мис Південно-Східний;

**Б** мис Йорк;

**Г** мис Стіп-Пойнт.

А	Б	В	Г
<input type="checkbox"/>	<input type="checkbox"/>	<input type="checkbox"/>	<input type="checkbox"/>

2. Назва материка Австралія походить від слова «аустраліс», що в перекладі з латини означає:

**А** далекий;

**В** південний;

**Б** зелений;

**Г** малий.

А	Б	В	Г
<input type="checkbox"/>	<input type="checkbox"/>	<input type="checkbox"/>	<input type="checkbox"/>

3. Протока, яка відділяє Австралію від острова Тасманія:

**А** Тасманова;

**В** Бассова;

**Б** Торресова;

**Г** Магелланова.

А	Б	В	Г
<input type="checkbox"/>	<input type="checkbox"/>	<input type="checkbox"/>	<input type="checkbox"/>

4. Течія, яка омиває північні береги Австралії:

**А** Західних вітрів;

**В** Бенгельська;

**Б** Північна Пасатна;

**Г** Південна Пасатна.

А	Б	В	Г
<input type="checkbox"/>	<input type="checkbox"/>	<input type="checkbox"/>	<input type="checkbox"/>

5. Вкажіть назву однієї з форм рельєфу Австралії:

**А** Ла-Платська низовина;

**В** гори Аппалачі;

**Б** Ефіопське нагір'я;

**Г** Великий Вододільний хребет.

А	Б	В	Г
<input type="checkbox"/>	<input type="checkbox"/>	<input type="checkbox"/>	<input type="checkbox"/>

6. Вкажіть кліматичний пояс Австралії, який має такі ознаки: *Упродовж року високі температури (близько +25° С), значна кількість опадів (1500 мм). Чітко простежуються сезонні відмінності щодо випадання опадів: дуже вологе літо й суха зима:*

**А** екваторіальний;

**В** субекваторіальний;

**Б** тропічний;

**Г** субтропічний.

А	Б	В	Г
<input type="checkbox"/>	<input type="checkbox"/>	<input type="checkbox"/>	<input type="checkbox"/>

7. Річка в Австралії, яка належить до пересихаючих:

**А** Конго;

**В** Дарлінг;

**Б** Нігер;

**Г** Мюррей.

А	Б	В	Г
<input type="checkbox"/>	<input type="checkbox"/>	<input type="checkbox"/>	<input type="checkbox"/>

8. Вкажіть природну область Австралії, для якої характерні такі ознаки: *Найбільша за площею природна країна континенту, в основі якої лежать кристалічні породи щита. Має різноманітну природу, однак переважають ландшафти пустель і напівпустель:*

**А** Західноавстралійське плоскогір'я;

**В** Великий Вододільний хребет;

**Б** Центральна низовина;

**Г** Тасманія.

А	Б	В	Г
<input type="checkbox"/>	<input type="checkbox"/>	<input type="checkbox"/>	<input type="checkbox"/>

9. Протока, яка розділяє Південну Америку й Антарктиду:

**А** Бассова;

**В** Дрейка;

**Б** Магелланова;

**Г** Торресова.

А	Б	В	Г
<input type="checkbox"/>	<input type="checkbox"/>	<input type="checkbox"/>	<input type="checkbox"/>

10. Середня товщина льодовикового покриву Антарктиди:

**А** 1000 м;

**В** 3000 м;

**Б** 2000 м;

**Г** 4000 м.

А	Б	В	Г
<input type="checkbox"/>	<input type="checkbox"/>	<input type="checkbox"/>	<input type="checkbox"/>

11. Антарктида є найвищим материком завдяки тому, що:

**А** через материк проходять Трансантарктичні гори;

**Б** постійно відбуваються землетруси та вияви вулканізму;

**В** Антарктична платформа більш піднята порівняно з іншими платформами;

**Г** на материк є потужна товща льодовикового покриву.

А	Б	В	Г
<input type="checkbox"/>	<input type="checkbox"/>	<input type="checkbox"/>	<input type="checkbox"/>

12. Вкажіть рядок з назвами частин Світового океану (моря, затоки, протоки), які омивають береги Антарктиди й названі на честь їх дослідників: А Б В Г

- А** Баренцове море, море Лаптевих, Берингова протока, Берингове море; 

--	--	--	--

  
**Б** Берингова протока, Гудзонова затока, Гудзонова протока, море Баффіна;  
**В** протока Дрейка, море Беллінсгаузена, море Амундсена, море Лазарева;  
**Г** Торресова протока, Бассова протока, Тасманове море, протока Кука.

13. Вкажіть три спільні ознаки, характерні для географічного положення Африки й Австралії:

- |   |   |
|---|---|
| <b>А</b> більша частина кожного з материків лежить у Південній півкулі; | А |
| <b>Б</b> через них проходить Південний тропік;                          | Б |
| <b>В</b> майже посередині перетинаються екватором;                      | В |
| <b>Г</b> їхні береги омивають води Тихого океану;                       | Г |
| <b>Д</b> береги кожного материка омиваються водами двох океанів;        | Д |
| <b>Е</b> береги обох материків омивають води найпотужнішої течії.       | Е |

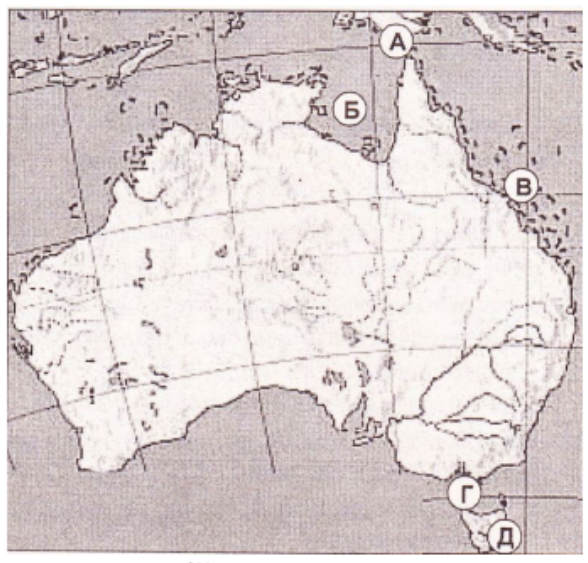
14. Встановіть відповідність між географічними об'єктами Австралії та їх назвами:

- |                   |                                |   |   |   |   |   |
|-------------------|--------------------------------|---|---|---|---|---|
| <b>1</b> протока; | <b>А</b> Велика Австралійська; | А | Б | В | Г | Д |
| <b>2</b> острів;  | <b>Б</b> Торресова;            | 1 |   |   |   |   |
| <b>3</b> озеро;   | <b>В</b> Ейр;                  | 2 |   |   |   |   |
| <b>4</b> затока.  | <b>Г</b> Нова Гвінея;          | 3 |   |   |   |   |
|                   | <b>Д</b> Косцюшко.             | 4 |   |   |   |   |

15. Встановіть відповідність між назвами географічних об'єктів Австралії та буквами, якими вони позначені на картосхемі:

- 1** Бассова протока;  
**2** затока Карпентарія;  
**3** Великий Бар'єрний риф;  
**4** острів Тасманія.

	А	Б	В	Г	Д
1					
2					
3					
4					



16. Встановіть послідовність зміни природних територій, починаючи від східного узбережжя Австралії:

- А** Великий Вододільний хребет; **Б** Західноавстралійське плоскогір'я;  
**В** Велика пустеля Вікторія; **Г** Центральна низовина.

	А	Б	В	Г	Д
1					
2					
3					
4					

17. Встановіть послідовність зміни кліматичних поясів Австралії, починаючи від о. Тасманія

- А** субекваторіальний; **Б** тропічний;  
**В** субтропічний; **Г** помірний.

	А	Б	В	Г	Д
1					
2					
3					
4					

18. Що спільного й відмінного мають озера Ейр і Чад? Чим це зумовлено?

### Варіант 3

1. Крайня західна точка Австралії:  
А мис Байрон; Б мис Йорк;  
В мис Стіп-Пойнт; Г мис Південно-Східний.
2. Затока, яка омиває південні береги Австралії:  
А Карпентарія; Б Гвінейська;  
В Велика Австралійська; Г Аденська.
3. Найвища вершина Австралійських Альп:  
А г. Кіліманджаро; Б г. Еверест;  
В г. Косцюшко; Г г. Мак-Кінлі.
4. Назва повітряних мас, які панують у субтропічному кліматичному поясі материка Австралія влітку:  
А помірні; Б екваторіальні;  
В тропічні; Г антарктичні.
5. Вкажіть кліматичний пояс Австралії, який має такі ознаки: *Високі температури влітку (+30 °С) й децю нижчі взимку. Наявні два типи клімату, які різко відрізняються за кількістю опадів — 200 мм і 2000 мм за рік:*  
А помірний; Б субекваторіальний;  
В тропічний; Г субтропічний.
6. Назва тимчасових пересихаючих водотоків Австралії:  
А ваді; Б кріки;  
В стариці; Г останці.
7. Природна область Австралії, для якої характерні такі ознаки: *Вкрита потужною товщею осадових відкладів, які сховали майже всі нерівності по верхні. Поширені піщані та глинясті пустелі, сухі савани, які перетинаються кріками. Є важливим сільськогосподарським районом Австралії:*  
А Західноавстралійське плоскогір'я; Б Центральна низовина;  
В Великий Вододільний хребет; Г Тасманія.
8. Материк, береги якого омивають моря Уеддела та Росса:  
А Південна Америка; Б Антарктида;  
В Північна Америка; Г Австралія.
9. Максимальна товщина покривного льодовика в Антарктиді:  
А 1000 м; Б 2000 м;  
В 3000 м; Г 4000 м.
10. Гори, продовженням яких є Трансантарктичні гори:  
А Кордильєри; Б Австралійські Альпи;  
В Анди; Г Великий Вододільний хребет.
11. Причиною формування суворого антарктичного клімату є:  
А льодовиковий покрив материка; Б холодні течії та стокові вітри;  
В гірський рельєф; Г велика площа материка.
12. Перша в Антарктиді українська наукова станція «Академік Вернадський» почала працювати у:  
А 1996 р.; Б 1990 р.;  
В 1950 р.; Г 1946 р.

13. Вкажіть три ознаки, характерні для субтропічного кліматичного поясу Австралії:

- А** охоплює північну частину материка;
- Б** температура повітря протягом усього року додатна;
- В** чітко виражені чотири пори року;
- Г** кількість опадів однакова на всій території, яку він охоплює;
- Д** виокремлюються три типи клімату: середземноморський, континентальний, вологий;
- Е** посезонно панують тропічні та помірні повітряні маси.

А	<input type="checkbox"/>
Б	<input type="checkbox"/>
В	<input type="checkbox"/>
Г	<input type="checkbox"/>
Д	<input type="checkbox"/>
Е	<input type="checkbox"/>

14. Встановіть відповідність між географічними об'єктами Австралії та їх назвами:

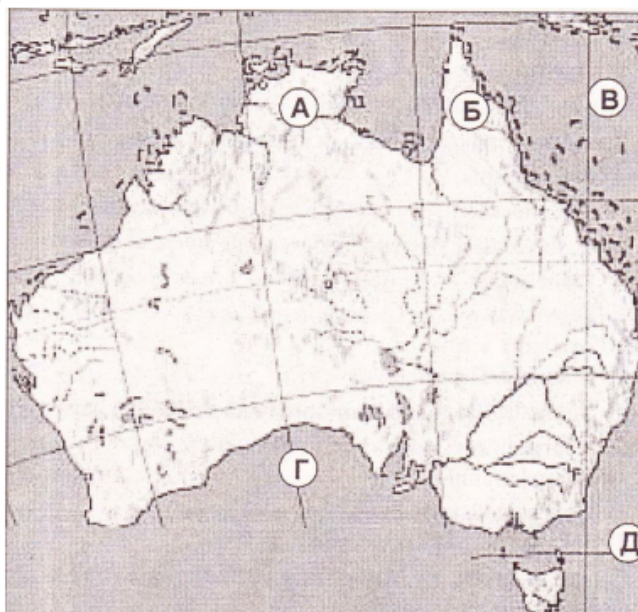
- 1 річка;
- 2 озеро;
- 3 протока;
- 4 пустеля.

- А** Карпентарія;
- Б** Бассова;
- В** Ейр;
- Г** Велика ... Вікторія;
- Д** Мюррей.

	А	Б	В	Г	Д
1	<input type="checkbox"/>	<input type="checkbox"/>	<input type="checkbox"/>	<input type="checkbox"/>	<input type="checkbox"/>
2	<input type="checkbox"/>	<input type="checkbox"/>	<input type="checkbox"/>	<input type="checkbox"/>	<input type="checkbox"/>
3	<input type="checkbox"/>	<input type="checkbox"/>	<input type="checkbox"/>	<input type="checkbox"/>	<input type="checkbox"/>
4	<input type="checkbox"/>	<input type="checkbox"/>	<input type="checkbox"/>	<input type="checkbox"/>	<input type="checkbox"/>

15. Встановіть відповідність між назвами географічних об'єктів Австралії та буквами, якими вони позначені на картосхемі:

- 1 Тасманове море
- 2 Велика Австралійська затока;
- 3 півострів Кейп-Йорк;
- 4 Коралове море.



	А	Б	В	Г	Д
1	<input type="checkbox"/>	<input type="checkbox"/>	<input type="checkbox"/>	<input type="checkbox"/>	<input type="checkbox"/>
2	<input type="checkbox"/>	<input type="checkbox"/>	<input type="checkbox"/>	<input type="checkbox"/>	<input type="checkbox"/>
3	<input type="checkbox"/>	<input type="checkbox"/>	<input type="checkbox"/>	<input type="checkbox"/>	<input type="checkbox"/>
4	<input type="checkbox"/>	<input type="checkbox"/>	<input type="checkbox"/>	<input type="checkbox"/>	<input type="checkbox"/>

16. Встановіть крайні точки материка Австралія у тій послідовності, в якій їх обминали мореплавці, що вирушили з порту Сідней і здійснили плавання навколо материка проти ходу годинникової стрілки:

- А** мис Стіп-Пойнт;
- Б** мис Байрон;
- В** мис Йорк;
- Г** мис Південно-Східний.

	А	Б	В	Г	Д
1	<input type="checkbox"/>	<input type="checkbox"/>	<input type="checkbox"/>	<input type="checkbox"/>	<input type="checkbox"/>
2	<input type="checkbox"/>	<input type="checkbox"/>	<input type="checkbox"/>	<input type="checkbox"/>	<input type="checkbox"/>
3	<input type="checkbox"/>	<input type="checkbox"/>	<input type="checkbox"/>	<input type="checkbox"/>	<input type="checkbox"/>
4	<input type="checkbox"/>	<input type="checkbox"/>	<input type="checkbox"/>	<input type="checkbox"/>	<input type="checkbox"/>

17. Встановіть послідовність зміни кліматичних поясів Австралії, починаючи від півострова Кейп-Йорк до острова Тасманія:

- А** помірний;
- Б** тропічний;
- В** субтропічний;
- Г** субекваторіальний.

	А	Б	В	Г	Д
1	<input type="checkbox"/>	<input type="checkbox"/>	<input type="checkbox"/>	<input type="checkbox"/>	<input type="checkbox"/>
2	<input type="checkbox"/>	<input type="checkbox"/>	<input type="checkbox"/>	<input type="checkbox"/>	<input type="checkbox"/>
3	<input type="checkbox"/>	<input type="checkbox"/>	<input type="checkbox"/>	<input type="checkbox"/>	<input type="checkbox"/>
4	<input type="checkbox"/>	<input type="checkbox"/>	<input type="checkbox"/>	<input type="checkbox"/>	<input type="checkbox"/>

18. Чим пояснити, що в Австралії, на відміну від інших материків, немає високих гір, діючих вулканів і не буває землетрусів?



