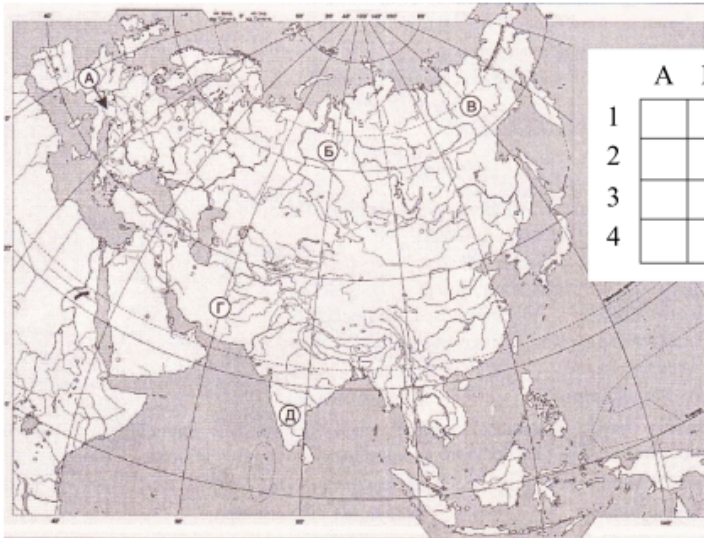


Варіант 1

1. Крайня північна точка Євразії:
А мис Піай; **Б** мис Дежньова;
В мис Челюскін; **Г** мис Рока.
2. Географічний об'єкт, на якому розташовані дві крайні точки Європи:
А Скандинавський півострів — північна та східна;
Б острів Ісландія — північна та західна;
В Піренейський півострів — південна та західна;
Г Балканський півострів — південна та східна.
3. Півострів у Євразії, на якому розташовано найбільше діючих вулканів:
А Апеннінський; **Б** Камчатка;
В Скандинавський; **Г** Мала Азія.
4. Тектонічна структура, яка лежить в основі Середньосибірського плоскогір'я:
А давня платформа; **Б** горст;
В щит; **Г** молода платформа-плита.
5. Найвищою вершиною Кавказьких гір є:
А Ельбрус; **Б** Еверест; **А**
В Казбек; **Г** Монблан.
6. Наявність на території Євразії всіх кліматичних поясів Північної півкулі можна пояснити:
А великою різноманітністю рельєфу;
Б значною протяжністю з півдня на північ;
В значною протяжністю із заходу на схід;
Г великою площею материка.
7. Тип клімату, який сформувався в Центральній і Східній Європі:
А мусонний; **Б** помірно континентальний;
В морський; **Г** континентальний.
8. Група річок Євразії, які входять до басейну Тихого океану:
А Янцзи, Хуанхе, Амур, Лена; **Б** Амур, Хуанхе, Янцзи, Меконг;
В Меконг, Індігінка, Ганг, Тигр; **Г** Ганг, Сирдар'я, Амудар'я, Брахмапутр
9. За походженням Каспійське та Аральське моря-озера є:
А залишковими; **Б** лиманними;
В льодовиковими; **Г** карстовими.
10. Вкажіть назву природної зони Євразії, для якої типовими представниками тваринного світу є сибірський козел, північний олень, соболь:
А пустелі помірних широт; **Б** савани і рідколісся;
В мішані ліси; **Г** тундра і лісотундра.
11. Природна область Європи, для якої характерні такі ознаки: *В її основі— давні тектонічні структури. Тут безліч озерних улоговин льодовикового походження. Клімат м'який з ознаками морського, незважаючи на те, що природна країна лежить у субарктичних широтах. Її інколи називають природним музеєм через значну різноманітність корисних копалин:*
А Ісландія; **Б** Середньоевропейська рівнина;
В Скандинавський півострів; **Г** Східноевропейська рівнина.
12. Держава Євразії, населення якої найчисленніше серед усіх країн світу:
А Росія; **Б** Німеччина;
В Китай; **Г** Індія.
13. Вкажіть три ознаки, характерні для материка Євразія:

Вчитель Голянич Н.І.

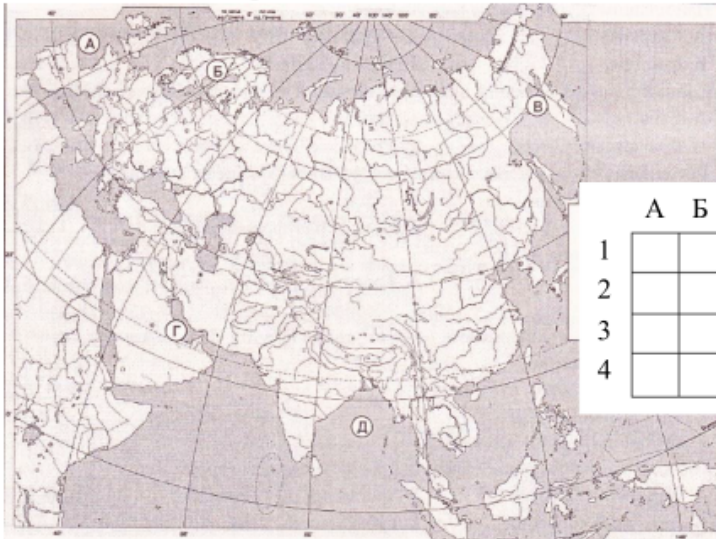
14. Встановіть відповідність між назвами форм рельєфу Євразії та буквами, якими вони позначені на картосхемі:



	А	Б	В	Г	Д
1					
2					
3					
4					

- 1 Альпи;
- 2 Західносибірська рівнина;
- 3 Іранське нагір'я;
- 4 плоскогір'я Декан.

15. Встановіть відповідність між назвами заток, що омивають Євразію, та буквами, якими вони позначені на картосхемі:



	А	Б	В	Г	Д
1					
2					
3					
4					

- 1 Перська;
- 2 Біскайська;
- 3 Бенгальська;
- 4 Ботнічна.

16. Встановіть послідовність розташування півостровів Євразії, починаючи від нульового меридіана на схід:

- А Балканський;
- Б Індостан;
- В Індокитай;
- Г Аравійський.

	А	Б	В	Г
1				
2				
3				
4				

17. Встановіть водні об'єкти Євразії в послідовності за абсолютною висотою рівня їх поверхні, починаючи від найбільшого значення:

- А озеро Байкал;
- Б Мертве море-озеро;
- В Каспійське море-озеро;
- Г Азовське море.

	А	Б	В	Г
1				
2				
3				
4				

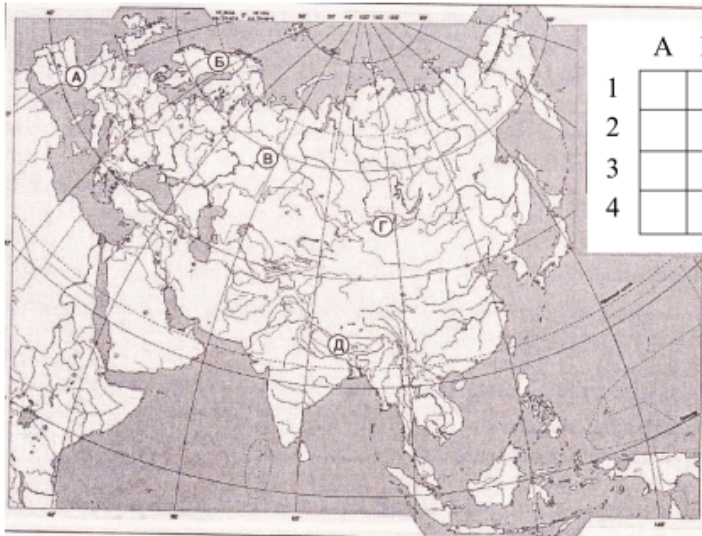
18. Які спільні ознаки в геологічній будові та формах рельєфу на Аравійському півострові й півострові Індостан?

Вчитель Голянич Н.І.

Варіант 2

1. Крайня південна точка Євразії:
А мис Піай; **Б** мис Дежньова;
В мис Челюскін; **Г** мис Рока.
2. Найбільшим островом біля берегів Європи є:
А Сицилія; **Б** Сардинія;
В Ірландія; **Г** Великобританія.
3. Єдиний з діючих вулканів, який розташований на материковій частині Європи:
А Етна; **Б** Везувій;
В Ключевська Сопка; **Г** Гекла.
4. Тектонічна структура, яка лежить в основі Західносибірської низовини:
А давня платформа; **Б** горст;
В щит; **Г** молода платформа-плита.
5. Найвища вершина Альп:
А Етна; **Б** Говерла;
В Везувій; **Г** Монблан.
6. Повітряні маси, які впливають на формування клімату Європи взимку:
А арктичні, помірні; **Б** арктичні, помірні, субтропічні;
В субарктичні, помірні; **Г** арктичні, помірні, тропічні.
7. Тип клімату, який сформувався на Аравійському півострові:
А середземноморський; **Б** тропічний пустельний;
В тропічний вологий; **Г** субекваторіальний.
8. Група річок Євразії, які входять до басейну Індійського океану:
А Інд, Північна Двіна, Об, Лена;
Б Амудар'я, Сирдар'я, Хуанхе, Амур;
В Ганг, Брахмапутра, Інд, Тигр;
Г Печора, Західна Двіна, Єнісей, Меконг.
9. За походженням Ладозьке та Онезьке озера є:
А вулканічними; **Б** залишковими;
В льодовиково-тектонічними; **Г** карстовими.
10. Природна зона Євразії, для якої типовими представниками тваринного світу є благородний олень, бурий ведмідь, дика свиня:
А пустелі помірних широт; **Б** савани і рідколісся;
В мішані ліси; **Г** тундра і лісотундра.
11. Природна область Європи, для якої характерні такі ознаки: *Простягається вздовж узбережжя Північного та Балтійського морів і займає прогин молодої платформи. Клімат змінюється від морського до континентального. З первинних тутешніх лісів залишилися окремі пущі (Біловезька та інші):*
А Скандинавський півострів; **Б** Східноєвропейська рівнина;
В Середньоєвропейська рівнина; **Г** Західносибірська рівнина.
12. Найбільшою за площею території державою в Євразії є:
А Росія; **Б** Казахстан;
В Китай; **Г** Індія.
13. Вкажіть три ознаки, характерні для Середносибірського плоскогір'я:
А у його основі лежить давня докембрійська платформа;
Б на формування форм рельєфу значною мірою впливає діяльність вітру;
В на ньому розміщений басейн найбільшої річки Євразії;
Г надра багаті на нафту і природний газ;
Д на клімат території великий вплив мають арктичні повітряні маси;
Е на території поширена лісотундра і тайга.

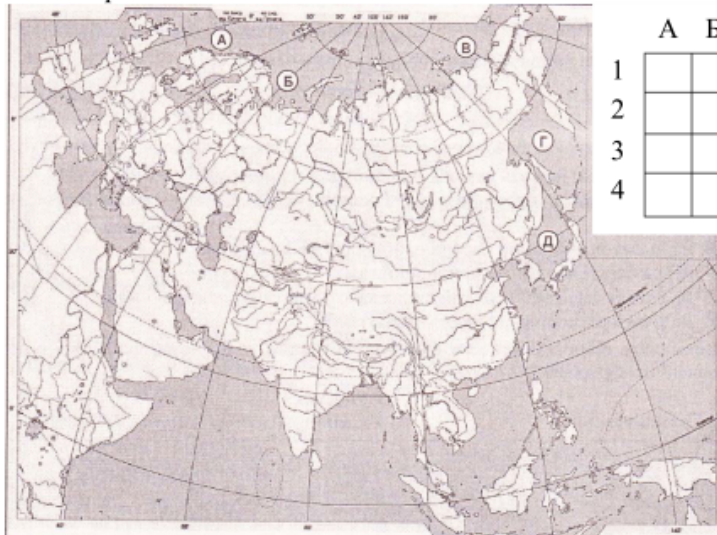
14. Встановіть відповідність між назвами гір Євразії та буквами, якими вони позначені на картосхемі:



	А	Б	В	Г	Д
1					
2					
3					
4					

- 1 Урал;
- 2 Скандинавські;
- 3 Піренеї;
- 4 Саяни.

15. Встановіть відповідність між назвами морів, які омивають Євразію, та буквами, якими вони позначені на картосхемі



	А	Б	В	Г	Д
1					
2					
3					
4					

- 1 Охотське;
- 3 Східносибірське;
- 2 Норвезьке;
- 4 Баренцове.

16. Встановіть назви півостровів східної частини Євразії в послідовності з півночі на південь:

- А Малакка;
- Б Камчатка;
- В Чукотка;
- Г Корейський.

	А	Б	В	Г
1				
2				
3				
4				

17. Встановіть послідовно географічні об'єкти, які є межею між Європою та Азією, починаючи від Середземного моря:

- А річка Емба;
- Б північжя Уральських гір;
- В протока Дарданелли;
- Г Кумо-Маницька западина.

	А	Б	В	Г
1				
2				
3				
4				

18. Який з материків — Євразія чи Африка — має більш порізану берегову лінію? Відповідь обґрунтуйте.

Вчитель Голянич Н.І.

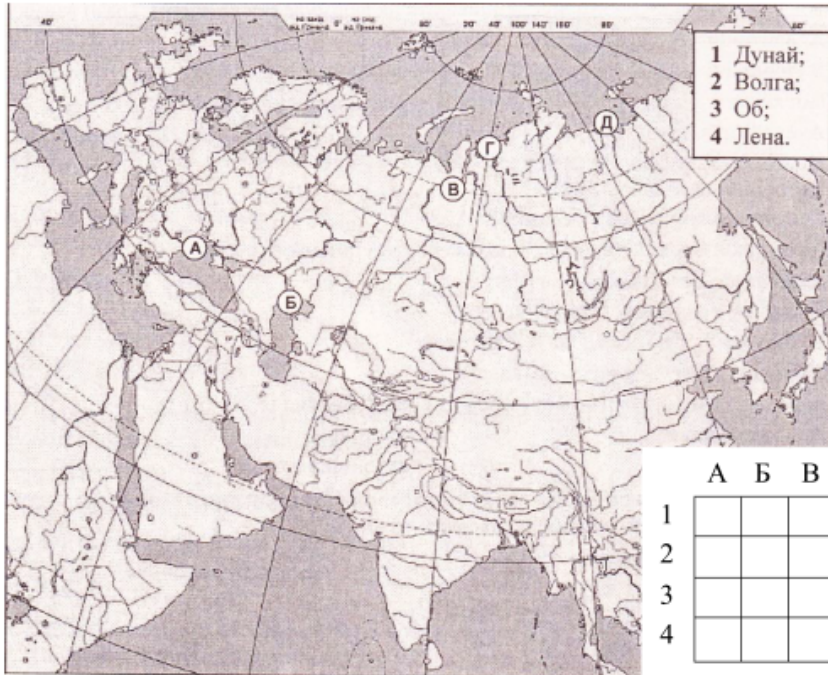
Варіант 3

1. Крайньою західною точкою Євразії є:
А мис Піай; Б мис Дежньова;
В мис Челюскін; Г мис Рока.
2. Один з найбільших островів світу, розташований біля берегів Азії:
А Шрі-Ланка; Б Сахалін;
В Тайвань; Г Калімантан.
3. Півострів, на якому розташований вулкан Ключевська Сопка:
А Кольський; Б Камчатка;
В Корейський; Г Чукотка.
4. Тектонічна структура, яка лежить в основі Уральських гір:
А вулканічні хребти і масиви;
Б давня сильно зруйнована складчаста область;
В молода слабо зруйнована складчаста область;
Г давня платформа, розбита на сукупність горстів і грабенів.
5. Найвищою вершиною Гімалаїв є:
А Аконкагуа; Б Монблан;
В Джомолунгма; Г Ельбрус.
6. Повітряні маси, які найменше впливають на формування клімату Євразії взимку:
А арктичні; Б помірні;
В тропічні; Г екваторіальні.
7. Тип клімату, який сформувався на півостровах Індостан та Індокитай:
А екваторіальний; Б субтропічний середземноморський;
В тропічний пустельний; Г субекваторіальний мусонний.
8. Група річок Євразії, які входять до басейну внутрішнього стоку:
А Дніпро, Дон, Дністер, Євфрат;
Б Волга, Урал, Дон, Сирдар'я;
В Амудар'я, Сирдар'я, Тигр, Євфрат;
Г Волга, Урал, Сирдар'я, Амудар'я.
9. За походженням Мертве море-озеро та озеро Байкал є:
А льодовиковим; Б карстовим;
В загатним; Г тектонічним.
10. Природна зона Євразії, для якої типовими представниками тваринного світу є гепард, індійський слон, бенгальський тигр:
А пустелі помірних широт; Б савани і рідколісся;
В мішані ліси; Г тундра і лісотундра.
11. Природна область Європи, для якої характерні такі ознаки: *Являє собою складну систему молодих хребтів і масивів із загостреними гребенями, піками та пірамідальними вершинами, розчленованих глибокими долинами. Один із лісистих районів, у якому переважає помірно-континентальний клімат:*
А Урал; Б Альпи;
В Скандинавський півострів; Г Ісландія.
12. Держава, яка розміщена на Апеннінському півострові:
А Італія; Б Греція;
В Іспанія; Г Індія .

13. Вкажіть три ознаки, характерні для річки Янцзи:
- А** бере початок у найвищих горах світу;
 - Б** протікає сейсмічно активними територіями;
 - В** замерзає на доволі тривалий період;
 - Г** живиться мусонними дощами;
 - Д** у гирлі творить найбільшу дельту на планеті;
 - Е** є найбільш повноводною річкою материка.

А	<input type="checkbox"/>
Б	<input type="checkbox"/>
В	<input type="checkbox"/>
Г	<input type="checkbox"/>
Д	<input type="checkbox"/>
Е	<input type="checkbox"/>

14. Встановіть відповідність між назвами річок Євразії та буквами, якими позначені їхні гирла на картосхемі:



	А	Б	В	Г	Д
1	<input type="checkbox"/>	<input type="checkbox"/>	<input type="checkbox"/>	<input type="checkbox"/>	<input type="checkbox"/>
2	<input type="checkbox"/>	<input type="checkbox"/>	<input type="checkbox"/>	<input type="checkbox"/>	<input type="checkbox"/>
3	<input type="checkbox"/>	<input type="checkbox"/>	<input type="checkbox"/>	<input type="checkbox"/>	<input type="checkbox"/>
4	<input type="checkbox"/>	<input type="checkbox"/>	<input type="checkbox"/>	<input type="checkbox"/>	<input type="checkbox"/>

15. Встановіть відповідність між мисами материка Євразія та півостровами, на яких вони розташовані:

- А** півострів Камчатка;
- Б** півострів Піренейський;
- В** півострів Таймир;
- Г** півострів Чукотка;
- Д** півострів Малакка.

	А	Б	В	Г	Д
1	<input type="checkbox"/>	<input type="checkbox"/>	<input type="checkbox"/>	<input type="checkbox"/>	<input type="checkbox"/>
2	<input type="checkbox"/>	<input type="checkbox"/>	<input type="checkbox"/>	<input type="checkbox"/>	<input type="checkbox"/>
3	<input type="checkbox"/>	<input type="checkbox"/>	<input type="checkbox"/>	<input type="checkbox"/>	<input type="checkbox"/>
4	<input type="checkbox"/>	<input type="checkbox"/>	<input type="checkbox"/>	<input type="checkbox"/>	<input type="checkbox"/>

16. Вкажіть назви островів, які лежать уздовж східного берега материка Євразія, у послідовності з півдня на північ:

- А** Курильські;
- Б** Філіппінські;
- В** Японські;
- Г** Зондські.

	А	Б	В	Г
1	<input type="checkbox"/>	<input type="checkbox"/>	<input type="checkbox"/>	<input type="checkbox"/>
2	<input type="checkbox"/>	<input type="checkbox"/>	<input type="checkbox"/>	<input type="checkbox"/>
3	<input type="checkbox"/>	<input type="checkbox"/>	<input type="checkbox"/>	<input type="checkbox"/>
4	<input type="checkbox"/>	<input type="checkbox"/>	<input type="checkbox"/>	<input type="checkbox"/>

17. Послідовно вкажіть кліматичні області помірного поясу Євразії за наростанням віддаленості від Атлантичного океану:

- А** область помірно континентального клімату;
- Б** область різко континентального клімату;
- В** область мусонного клімату;
- Г** область морського клімату.

	А	Б	В	Г
1	<input type="checkbox"/>	<input type="checkbox"/>	<input type="checkbox"/>	<input type="checkbox"/>
2	<input type="checkbox"/>	<input type="checkbox"/>	<input type="checkbox"/>	<input type="checkbox"/>
3	<input type="checkbox"/>	<input type="checkbox"/>	<input type="checkbox"/>	<input type="checkbox"/>
4	<input type="checkbox"/>	<input type="checkbox"/>	<input type="checkbox"/>	<input type="checkbox"/>

18. Чому на сході Індо-Гангзької низовини опадів випадає майже у десять разів більше, ніж на заході?

Варіант 4

1. Крайньою східною точкою Євразії є:
А мис Пайї;
В мис Челюскін;
Б мис Дежньова;
Г мис Рока.
- А Б В Г
2. Найбільшим у світі півостровом є:
А Індостан;
В Індокитай;
Б Піренейський;
Г Аравійський.
- А Б В Г
3. Вкажіть острови, на яких розташований вулкан Фудзіяма:
А Японські;
В Великі Зондські;
Б Філіппінські;
Г Курильські.
- А Б В Г
4. Тектонічні структури, які лежать в основі гірських систем Тянь-Шань і Алтай:
А сукупність вулканічних хребтів і масивів;
Б молоді складчасті споруди на стику зіткнення сучасних літосферних плит;
В давні складчасті споруди, «відроджені» під час пізніших горотворчих епох;
Г давні зруйновані складчасті споруди.
- А Б В Г
5. Найнижчим місцем поверхні Євразії є:
А рівень Каспійського моря-озера;
В рівень озера Балхаш;
Б рівень Аральського моря-озера;
Г рівень Мертвого моря-озера
- А Б В Г
6. Найбільшим впливом на виокремлення кліматичних областей на території деяких кліматичних поясів Євразії є:
А сезонні зміни повітряних мас;
Б значна протяжність у меридіальному напрямі;
В значна протяжність поясів уздовж паралелей;
Г різноманітність природних зон.
- А Б В Г
7. Тип клімату, який сформувався на Апеннінському півострові:
А субтропічний середземноморський;
В помірно континентальний;
Б субтропічний мусонний;
Г тропічний пустельний.
- А Б В Г
8. Група річок Євразії, які входять до басейну Північного Льодовитого океану:
А Дніпро, Дон, Дністер, Євфрат;
В Єнісей, Лена, Печора, Колима;
Б Волга, Урал, Дон, Сирдар'я;
Г Амудар'я, Сирдар'я, Тигр, Євфрат.
- А Б В Г
9. Вкажіть назву озера, яке складається з двох частин — солоної та прісної:
А Мертве море-озеро;
В Аральське море-озеро;
Б затока-озеро Сиваш;
Г озеро Балхаш.
- А Б В Г
10. Природна зона Євразії, для якої типовими представниками тваринного світу є лисиця корсак, кінь Пржевальського, двогорбий верблюд:
А пустелі помірних широт;
В мішані ліси;
Б савани і рідколісся;
Г тундра і лісотундра.
- А Б В Г
11. Природна область Євразії, для якої характерні такі ознаки: *В основі лежить давня платформа, тому немає значної різниці у висотах рельєфу. Клімат помірно-континентальний. На північному заході багато озер льодовикового походження:*
А Туранська рівнина;
В Велика Китайська рівнина;
Б Західносибірська рівнина;
Г Східноєвропейська рівнина.
- А Б В Г
12. Держава, яка розташована на островах:
А Швеція;
В Японія;
Б Туреччина;
Г Індія.
- А Б В Г

13. Виберіть три правильні твердження:

- А** дві крайні точки материка Євразія є одночасно крайніми точками Азії, а дві інші — крайніми точками Європи;
- Б** межу між Європою та Азією на суходолі проводять уздовж річок і гірських систем;
- В** материк Євразія складений з «осколків» двох давніх материків — Лавразії та Гондвани;
- Г** материк Євразія має сухопутний зв'язок з двома сусідніми материками;
- Д** найбільший півострів Євразії омивається водами двох океанів;
- Е** у внутрішніх частинах території Євразії спостерігається посезонна зміна областей високого і низького атмосферного тиску.

А	<input type="checkbox"/>
Б	<input type="checkbox"/>
В	<input type="checkbox"/>
Г	<input type="checkbox"/>
Д	<input type="checkbox"/>
Е	<input type="checkbox"/>

14. Встановіть відповідність між назвами озер Євразії та буквами, якими вони позначені на картосхемі:

1 Байкал;
2 Онезьке;
3 Аральське;
4 Балхаш.

	А	Б	В	Г	Д
1	<input type="checkbox"/>	<input type="checkbox"/>	<input type="checkbox"/>	<input type="checkbox"/>	<input type="checkbox"/>
2	<input type="checkbox"/>	<input type="checkbox"/>	<input type="checkbox"/>	<input type="checkbox"/>	<input type="checkbox"/>
3	<input type="checkbox"/>	<input type="checkbox"/>	<input type="checkbox"/>	<input type="checkbox"/>	<input type="checkbox"/>
4	<input type="checkbox"/>	<input type="checkbox"/>	<input type="checkbox"/>	<input type="checkbox"/>	<input type="checkbox"/>

15. Встановіть відповідність між тектонічними структурами та формами рельєфу Євразії:

- 1** давня платформа;
- 2** давня складчаста область;
- 3** молода платформа-плита;
- 4** молода складчаста область.
- А** Велика Китайська рівнина;
- Б** Скандинавські гори;
- В** нагір'я Памір;
- Г** Мальдівські острови;
- Д** Туранська низовина.

	А	Б	В	Г	Д
1	<input type="checkbox"/>	<input type="checkbox"/>	<input type="checkbox"/>	<input type="checkbox"/>	<input type="checkbox"/>
2	<input type="checkbox"/>	<input type="checkbox"/>	<input type="checkbox"/>	<input type="checkbox"/>	<input type="checkbox"/>
3	<input type="checkbox"/>	<input type="checkbox"/>	<input type="checkbox"/>	<input type="checkbox"/>	<input type="checkbox"/>
4	<input type="checkbox"/>	<input type="checkbox"/>	<input type="checkbox"/>	<input type="checkbox"/>	<input type="checkbox"/>

16. Встановіть послідовність у розташуванні островів уздовж південного берега материка Євразія зі сходу на захід, починаючи від Великих Зондських островів:

- А** Шрі-Ланка;
- Б** Кіпр;
- В** Суматра;
- Г** Сицилія.

	А	Б	В	Г
1	<input type="checkbox"/>	<input type="checkbox"/>	<input type="checkbox"/>	<input type="checkbox"/>
2	<input type="checkbox"/>	<input type="checkbox"/>	<input type="checkbox"/>	<input type="checkbox"/>
3	<input type="checkbox"/>	<input type="checkbox"/>	<input type="checkbox"/>	<input type="checkbox"/>
4	<input type="checkbox"/>	<input type="checkbox"/>	<input type="checkbox"/>	<input type="checkbox"/>

17. Послідовно встановіть назви водних об'єктів, якими пливтимуть туристи з Великобританії до Китаю вздовж південного узбережжя Євразії:

- А** Червоне море;
- Б** Гібралтарська протока;
- В** Малаккська протока;
- Г** Суецький канал.

	А	Б	В	Г
1	<input type="checkbox"/>	<input type="checkbox"/>	<input type="checkbox"/>	<input type="checkbox"/>
2	<input type="checkbox"/>	<input type="checkbox"/>	<input type="checkbox"/>	<input type="checkbox"/>
3	<input type="checkbox"/>	<input type="checkbox"/>	<input type="checkbox"/>	<input type="checkbox"/>
4	<input type="checkbox"/>	<input type="checkbox"/>	<input type="checkbox"/>	<input type="checkbox"/>

18. Чим пояснюють наявність на материк Євразія майже всіх типів клімату, характерних для суходолу? Які з них відсутні на материках Південної півкулі?

Вчитель Голянич Н.І.