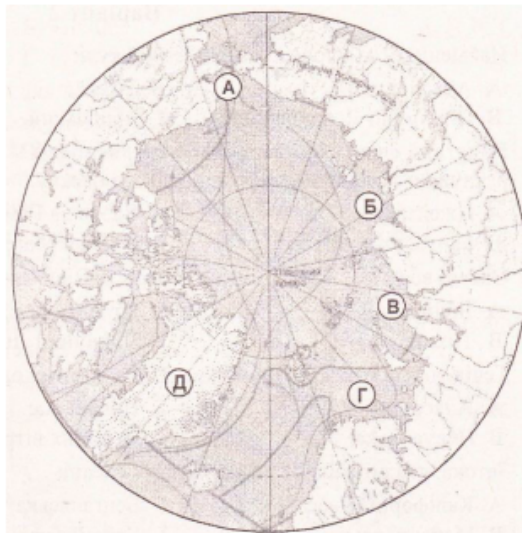


Варіант 1

1. Найбільший океан Земної кулі:
А Атлантичний; Б Тихий;
В Північний Льодовитий; Г Індійський .
- А Б В Г
2. Мандрівник, завдяки плаванням якого почалося швидке освоєння Атлантичного океану:
А Фернан Магеллан; Б ВаскодаГама;
В Христофор Колумб; Г Джеймс Кук.
- А Б В Г
3. Океан, води якого НЕ омивають берегів Антарктиди:
А Індійський; Б Атлантичний;
В Тихий; Г Північний Льодовитий.
- А Б В Г
4. Течія, яка протікає в Тихому океані:
А Бенгельська; Б Сомалійська;
В Куросіо; Г Гольфстрім.
- А Б В Г
5. Затока, розміщена в Атлантичному океані:
А Каліфорнійська; Б Бенгальська;
В Мексиканська; Г Аляска.
- А Б В Г
6. Море, яке є частиною Індійського океану:
А Баренцове; Б Берингове;
В Середземне; Г Аравійське.
- А Б В Г
7. Протока, яка з'єднує Атлантичний океан з Тихим:
А Берингова; Б Гібралтарська;
В Дрейка; Г Мозамбіцька.
- А Б В Г
8. Глибоководний жолоб, у якому зафіксована максимальна глибина Індійського океану:
А Маріанський; Б Зондський;
В Пуерто-Ріко; Г Філіппінський.
- А Б В Г
9. Острови, які розміщені в Тихому океані:
А Бермудські; Б Гавайські;
В Шпіцберген; Г Канадські Арктичні.
- А Б В Г
10. Океан, на дні якого майже посередині проходить серединно-океанічний хребет, що простягається вздовж усього океану:
А Атлантичний; Б Тихий;
В Північний Льодовитий; Г Індійський.
- А Б В Г
11. Океан, який омиває західні береги найменшого за площею материка:
А Атлантичний; Б Тихий;
В Північний Льодовитий; Г Індійський.
- А Б В Г
12. Водний об'єкт, який з'єднує два моря, що належать до різних океанів:
А Гібралтарська протока; Б Панамський канал;
В Суецький канал; Г протока Дрейка.
- А Б В Г
13. Вкажіть три ознаки, характерні для Північного Льодовитого океану:
- | | | |
|--|---|--------------------------|
| А усі моря океану замерзають; | А | <input type="checkbox"/> |
| Б суворий арктичний клімат; | Б | <input type="checkbox"/> |
| В бідний органічний світ; | В | <input type="checkbox"/> |
| Г значну частину площі дна становить шельф; | Г | <input type="checkbox"/> |
| Д широко сполучається з Тихим океаном; | Д | <input type="checkbox"/> |
| Е солоність вод значно перевищує середню солоність у Світовому океані. | Е | <input type="checkbox"/> |

14. Встановіть відповідність між назвами географічних об'єктів Північного Льодовитого океану та буквами, якими вони позначені на картосхемі:

- 1 Баренцове море;
- 2 Берингова протока;
- 3 о. Гренландія;
- 4 Карське море.



	А	Б	В	Г	Д
1					
2					
3					
4					

15. Встановіть відповідність між океанами і географічними об'єктами, які до них належать:

- | | |
|-------------------------|----------------------|
| 1 Північний Льодовитий; | А Багамські острови; |
| 2 Атлантичний; | Б Маріанський жолоб; |
| 3 Тихий; | В море Лаптевих; |
| 4 Індійський. | Г Каспійське море; |
| | Д Сомалійська течія. |

	А	Б	В	Г	Д
1					
2					
3					
4					

16. Встановіть послідовність зміни водних об'єктів уздовж західних берегів Атлантичного океану з півночі на південь:

- А Мексиканська затока;
- Б протока Дрейка;
- В Карибське море;
- Г Лабрадорська течія.

	А	Б	В	Г
1				
2				
3				
4				

17. Мандрівники відплили на яхтах від південних берегів Нової Зеландії і здійснили подорож навколо південної частини Тихого океану, постійно рухаючись за його течіями. Вкажіть послідовно течії, що несли яхти:

- А Східно-Австралійська;
- Б Західних Вітрів;
- В Південна Пасатна;
- Г Перуанська.

	А	Б	В	Г
1				
2				
3				
4				

18. Чому на узбережжі Тихого океану утворилася значна кількість глибоководних жолобів?

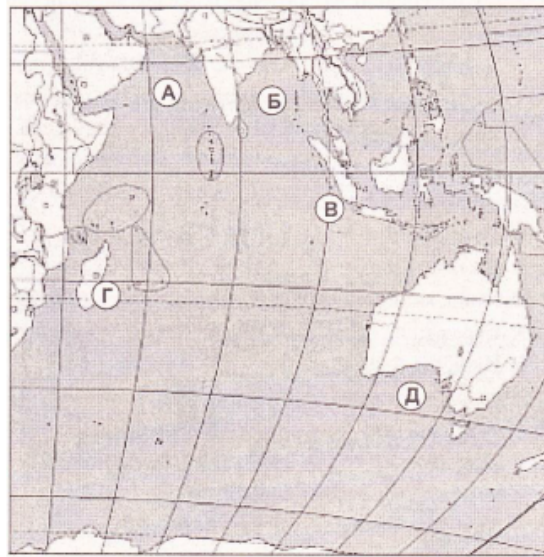
Варіант 2

1. Найменший за площею океан Земної кулі:
А Атлантичний; **Б** Тихий;
В Північний Льодовитий; **Г** Індійський.
- А Б В Г
2. Видатний європейський мандрівник, який у XV ст. вперше дістався до Індії, перетнувши західну частину Індійського океану:
А Джеймс Кук **Б** Васко да Гама;
В Бартоломеу Діаш; **Г** Фернан Магеллан.
- А Б В Г
3. Океан, води якого НЕ омивають берегів Північної Америки:
А Індійський; **Б** Атлантичний;
В Тихий; **Г** Північний Льодовитий.
- А Б В Г
4. Течія, яка протікає в Північному Льодовитому океані:
А Аляскінська; **Б** Норвезька;
В Перуанська; **Г** Західних вітрів.
- А Б В Г
5. Затока, яка розміщена в Індійському океані:
А Каліфорнійська; **Б** Бенгальська;
В Мексиканська; **Г** Гвінейська.
- А Б В Г
6. Вкажіть море, яке є частиною Атлантичного океану:
А Норвезьке; **Б** Японське;
В Середземне; **Г** Червоне.
- А Б В Г
7. Протока, що з'єднує Середземне море з Атлантичним океаном:
А Мозамбіцька; **Б** Гібралтарська;
В Дрейка; **Г** Берингова.
- А Б В Г
8. Найбільший глибоководний жолоб у Тихому океані:
А Маріанський; **Б** Перуанський;
В Чилійський; **Г** Філіппінський.
- А Б В Г
9. Острови, розміщені в Північному Льодовитому океані:
А Бермудські; **Б** Гавайські;
В архіпелаг Шпіцберген; **Г** Великі Зондські.
- А Б В Г
10. Океан, який є найбільшим акумулятором тепла на Земній кулі:
А Атлантичний; **Б** Тихий;
В Північний Льодовитий; **Г** Індійський.
- А Б В Г
11. Закінчіть твердження: *Океанією називають скупчення островів, яке розміщене в Тихому океані у його...*
А центральній і північній частинах; **Б** центральній і південній частинах;
В центральній і західній частинах; **Г** центральній і східній частинах.
- А Б В Г
12. Океан, який омиває північні береги найбільшого за площею материка:
А Атлантичний; **Б** Тихий;
В Північний Льодовитий; **Г** Індійський.
- А Б В Г
13. Вкажіть три ознаки, характерні для Атлантичного океану:
А клімат північних районів океану суворіший, ніж південних;
Б у ньому розміщена найпотужніша тепла течія планети;
В з усіх океанів має найбільший шельф;
Г простягається від субарктичних широт до Антарктиди;
Д перетинається з півночі на південь серединно-океанічним хребтом;
Е першими європейцями, які його перетнули, були учасники експедиції Магеллана.
- А
 Б
 В
 Г
 Д
 Е

14. Встановіть відповідність між назвами географічних об'єктів Індійського океану та буквами, якими вони позначені на картосхемі:

- 1 о. Мадагаскар;
- 2 Бенгальська затока;
- 3 Аравійське море;
- 4 Зондський глибоководний жолоб.

	А	Б	В	Г	Д
1					
2					
3					
4					



15. Встановіть відповідність між океанами та географічними об'єктами, які до них належать:

- | | |
|-------------------------|----------------------|
| 1 Північний Льодовитий; | А о. Мадагаскар; |
| 2 Атлантичний; | Б Карибське море; |
| 3 Тихий; | В Гавайські острови; |
| 4 Індійський. | Г Аральське море; |
| | Д хребет Менделєєва. |

	А	Б	В	Г	Д
1					
2					
3					
4					

16. Встановіть послідовність зміни водних об'єктів уздовж східних берегів Атлантичного океану з півдня на північ:

- А Гвінейська затока;
- Б Гібралтарська протока;
- В Балтійське море;
- Г Бенгельська течія.

	А	Б	В	Г
1				
2				
3				
4				

17. Вкажіть послідовно океани за їх площею, починаючи від найменшого її значення:

- А Атлантичний;
- Б Індійський;
- В Північний Льодовитий;
- Г Тихий.

	А	Б	В	Г
1				
2				
3				
4				

18. Чому посередині Атлантичного океану виникли серединно-океанічні хребти?

Варіант 3

1. Океан земної кулі, більша частина якого лежить у Південній півкулі:
А Атлантичний; Б Тихий;
В Північний Льодовитий; Г Індійський .
2. Видатний дослідник Арктики:
А Отто Шмідт; Б Васко да Гама;
В Джеймс Кук; Г Роберт Скотт.
3. Материк, який омивається водами чотирьох океанів:
А Євразія; Б Південна Америка;
В Північна Америка; Г Африка.
4. Течія, що протікає в Індійському океані:
А Алякинська; Б Сомалійська;
В Перуанська; Г Гольфстрім.
5. Затока в Атлантичному океані:
А Каліфорнійська; Б Біскайська;
В Перська; Г Велика Австралійська.
6. Море, яке є частиною Північного Льодовитого океану:
А Гренландське; Б Північне;
В Аравійське; Г Берингове.
7. Протока, що з'єднує Північний Льодовитий океан з Тихим:
А Берингова; Б Гібралтарська;
В Дрейка; Г Мозамбіцька.
8. Найбільший глибоководний жолоб в Атлантичному океані:
А Маріанський; Б Зондський;
В Пуерто-Ріко; Г Філіппінський.
9. Острів, розташований в Індійському океані:
А Гренландія; Б Вогняна Земля;
В Нова Гвінея; Г Мадагаскар.
10. Океан, у якому розташована велика кількість острівних дуг, що утворилися в результаті зіткнення літосферних плит:
А Атлантичний; Б Тихий;
В Північний Льодовитий; Г Індійський.
11. Східні береги Північної Америки омиває:
А Атлантичний океан; Б Тихий океан;
В Північний Льодовитий океан; Г Індійський океан.
12. Протока, яка з'єднує море з океаном:
А Мозамбіцька; Б Берингова;
В Магелланова; Г Гібралтарська.
13. Позначте три ознаки, характерні для Тихого океану:
А усі його моря, що омивають південні материки, не замерзають;
Б у ньому розміщений найглибоководніший на планеті жолоб;
В найбільший з океанів нашої планети;
Г перетинається з півночі на південь майже посередині серединно-океанічними хребтами;
Д першими європейцями, які його перетнули, були учасники експедиції Колумба;
Е океанічні течії утворюють кілька замкнутих колообігів води.

А	Б	В	Г
<input type="checkbox"/>	<input type="checkbox"/>	<input type="checkbox"/>	<input type="checkbox"/>

А	Б	В	Г
<input type="checkbox"/>	<input type="checkbox"/>	<input type="checkbox"/>	<input type="checkbox"/>

А	Б	В	Г
<input type="checkbox"/>	<input type="checkbox"/>	<input type="checkbox"/>	<input type="checkbox"/>

А	Б	В	Г
<input type="checkbox"/>	<input type="checkbox"/>	<input type="checkbox"/>	<input type="checkbox"/>

А	Б	В	Г
<input type="checkbox"/>	<input type="checkbox"/>	<input type="checkbox"/>	<input type="checkbox"/>

А	Б	В	Г
<input type="checkbox"/>	<input type="checkbox"/>	<input type="checkbox"/>	<input type="checkbox"/>

А	Б	В	Г
<input type="checkbox"/>	<input type="checkbox"/>	<input type="checkbox"/>	<input type="checkbox"/>

А	Б	В	Г
<input type="checkbox"/>	<input type="checkbox"/>	<input type="checkbox"/>	<input type="checkbox"/>

А	Б	В	Г
<input type="checkbox"/>	<input type="checkbox"/>	<input type="checkbox"/>	<input type="checkbox"/>

А	Б	В	Г
<input type="checkbox"/>	<input type="checkbox"/>	<input type="checkbox"/>	<input type="checkbox"/>

А	Б	В	Г
<input type="checkbox"/>	<input type="checkbox"/>	<input type="checkbox"/>	<input type="checkbox"/>

А	Б	В	Г
<input type="checkbox"/>	<input type="checkbox"/>	<input type="checkbox"/>	<input type="checkbox"/>

А	<input type="checkbox"/>
Б	<input type="checkbox"/>
В	<input type="checkbox"/>
Г	<input type="checkbox"/>
Д	<input type="checkbox"/>
Е	<input type="checkbox"/>

14. Встановіть відповідність між океанами та географічними об'єктами, які до них належать:

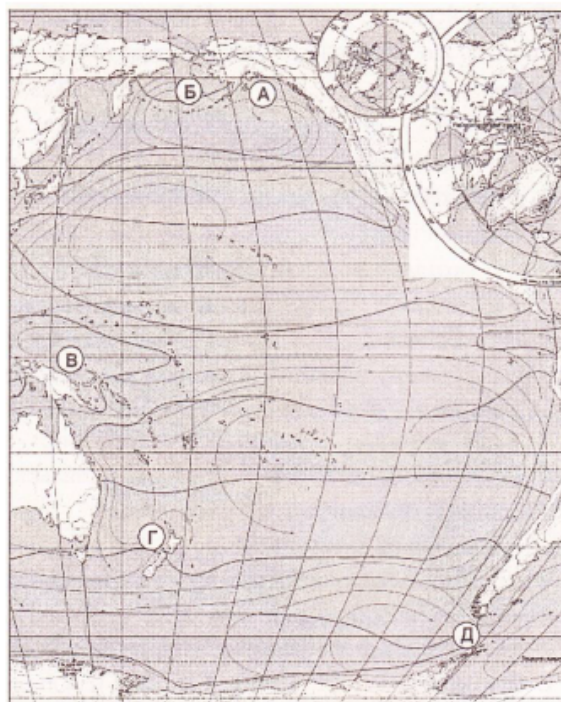
- 1 Північний Льодовитий океан;
- 2 Атлантичний океан;
- 3 Тихий океан;
- 4 Індійський океан.

- А Тасманове море;
- Б Бенгальська затока;
- В Мертве море;
- Г Бразильська течія;
- Д о. Гренландія.

	А	Б	В	Г	Д
1					
2					
3					
4					

15. Встановіть відповідність між назвами географічних об'єктів Тихого океану та буквами, якими вони позначені на картосхемі:

- 1 протока Дрейка;
- 2 затока Аляска;
- 3 Берингове море;
- 4 о-ви Нова Зеландія.



	А	Б	В	Г	Д
1					
2					
3					
4					

16. Встановіть послідовність зміни географічних об'єктів уздовж західних берегів Тихого океану з півночі на південь:

- А о-ви Нова Зеландія;
- Б Філіппінський глибоководний жолоб;
- В Берингове море;
- Г течія Куросіо.

	А	Б	В	Г
1				
2				
3				
4				

17. Розмістіть послідовно океани за їх максимальною глибиною, починаючи від найбільшого її значення:

- А Атлантичний;
- Б Північний Льодовитий;
- В Тихий;
- Г Індійський.

	А	Б	В	Г
1				
2				
3				
4				

18. Чому Індійський океан називають «океаном нагрітих вод»?

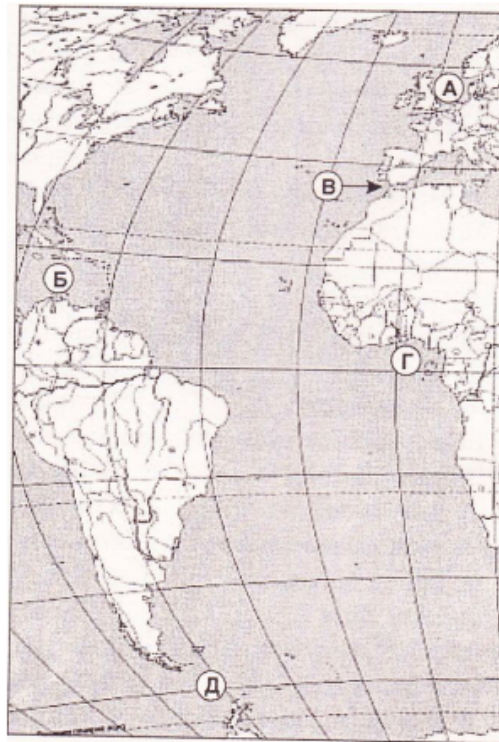
Варіант 4

1. Найглибший океан Земної кулі:
А Атлантичний; **Б** Тихий;
В Північний Льодовитий; **Г** Індійський.
2. Видатний європейський мореплавець, який вперше перетнув Тихий океан:
А Джеймс Кук; **Б** Юрій Лисянський;
В Христофор Колумб; **Г** Фернан Магеллан.
3. Материк, який омивається водами трьох океанів:
А Австралія; **Б** Південна Америка;
В Африка; **Г** Антарктида.
4. Течія, яка протікає в Атлантичному океані:
А Перуанська; **Б** Сомалійська;
В Каліфорнійська; **Г** Гольфстрім.
5. Затока, яка належить до Північного Льодовитого океану:
А Гудзонова; **Б** Бенгальська;
В Мексиканська; **Г** Гвінейська.
6. Море, яке є частиною Тихого океану:
А Черне; **Б** Жовте;
В Червоне; **Г** Біле.
7. Протока, що з'єднує Індійський океан з Тихим:
А Берингова; **Б** Малаккська;
В Магелланова; **Г** Мозамбіцька.
8. Найбільший глибоководний жолоб, який НЕ розміщений у Тихому океані:
А Маріанський; **Б** Зондський;
В Чилійський; **Г** Філіппінський.
9. Острови, які розташовані в Атлантичному океані:
А Великі Антильські; **Б** Філіппінські;
В Нова Земля; **Г** Курильські.
10. Океан, у якому шельф охоплює найбільшу частину дна:
А Атлантичний; **Б** Тихий;
В Північний Льодовитий; **Г** Індійський.
11. Океан, який омиває західні береги Південної Америки:
А Атлантичний; **Б** Тихий;
В Північний Льодовитий; **Г** Індійський.
12. Протока, що з'єднує два океани:
А Гібралтарська; **Б** Босфор;
В Дрейка; **Г** Мозамбіцька.
13. Вкажіть три ознаки, характерні для Індійського океану:
А більша його частина лежить у Південній півкулі;
Б до нього належить найсолоніше море у світі;
В у ньому спостерігаються найвищі припливи Світового океану;
Г єдина літосферна плита є основою ложа океану;
Д екваторіальні й тропічні водні маси становлять близько половини площі океану;
Е води океану найменш забруднені порівняно з іншими океанами планети.

14. Встановіть відповідність між назвами географічних об'єктів Атлантичного океану та буквами, якими вони позначені на картосхемі:

- 1 Північне море;
- 2 Гвінейська затока;
- 3 Карибське море;
- 4 Гібралтарська протока.

	А	Б	В	Г	Д
1					
2					
3					
4					



15. Встановіть відповідність між океанами та географічними об'єктами, які до них належать:

- 1 Північний Льодовитий;
- 2 Атлантичний;
- 3 Тихий;
- 4 Індійський.

- А Великі Зондські острови;
- Б Каспійське море;
- В Японське море;
- Г Норвезька течія;
- Д Мексиканська затока.

	А	Б	В	Г	Д
1					
2					
3					
4					

16. Вкажіть послідовність зміни водних об'єктів уздовж північних берегів Індійського океану із заходу на схід:

- А Бенгальська затока;
- Б Зондський жолоб;
- В Перська затока;
- Г Червоне море.

	А	Б	В	Г
1				
2				
3				
4				

17. Встановіть послідовність зміни водних мас Атлантичного океану від Півден ного полярного кола до екватора:

- А помірні;
- Б арктичні;
- В екваторіальні;
- Г тропічні.

	А	Б	В	Г
1				
2				
3				
4				

18. Чому крига в Північному Льодовитому океані постійно дрейфує?