

Північна Америка

Картка 1

Завдання. Дайте відповідь.

1. Найбільший острів Канадського Арктичного архіпелагу.
2. Найвища точка материка.
3. Острів, який на заході омиває затока Святого Лаврентія, а на сході Лабрадорська течія Атлантичного океану.
4. Протока між Північною Америкою і Євразією.
5. Півострів на північному заході материка.
6. Океан, який омиває материк на півночі.
7. Вулканічні острови на північному заході материка.
8. Потужна тепла течія, яка омиває східне узбережжя Північної Америки.
9. Найбільше за площею озеро групи Великих Американських озер.
10. Протока, яка з'єднує Гудзонову затоку з Атлантичним океаном.
11. Форма рельєфу, у межах якої розташовані Великі Американські озера.
12. Крайня східна точка Північної Америки.

Північна Америка

Картка 2

Завдання. Дайте відповідь.

1. Найбільший за площею півострів материка.
2. Річка, яка впадає в Каліфорнійську затоку і утворює Великий каньйон.
3. Море, яке омиває узбережжя островів Гренландія і Баффінова Земля.
4. Гірська система, яка простягається між Кордильєрами і Великими рівнинами.
5. Затока, що омиває північно-західне узбережжя Північної Америки, у межах якої діє однойменна з нею тепла течія.
6. Найбільший острів Великих Антильських островів.
7. Затока, яка омиває південне узбережжя материка.
8. Річка, що з'єднує Великі Американські озера і Атлантичний океан.
9. Море на північному-заході материка, яке омиває узбережжя Північної Америки і Євразії.
10. Найбільша права притока річки Міссісіпі.
11. Річка басейну Північного Льодовитого океану, названа на честь дослідника Північної Америки.
12. Крайня західна точка материка.

Північна Америка

Картка 5

Завдання. Дайте схвальну (так) або заперечну (ні) відповідь на твердження.

1. Річка Міссурі — найбільша притока річки Міссісіпі.
2. Озеро Мічиган — найбільше за площею серед Великих Американських озер.
3. Найвища вершина Північної Америки знаходиться в межах Скелястих гір.
4. Мис Сент-Чарльз — крайня південна точка материка.
5. «Льодовим мішком» називають затоку Святого Лаврентія.
6. Півострів Каліфорнію перетинає північний тропік.
7. Озеро Гурон — одне з Великих Американських озер.
8. Півострів Аляску омивають води Берингового моря.
9. Річка Колумбія утворила Великий Каньйон.

10. На північ від материка простягається Канадський Арктичний архіпелаг.

11. Гори Аппалачі — найвища гірська система Північної Америки.

12. Річка Огайо — ліва притока річки Міссурі.



Північна Америка

Картка 6

Завдання. Дайте схвальну (так) або заперечну (ні) відповідь на твердження.

1. Аляскинська холодна течія знаходиться в Тихому океані.
2. На острові Баффінова Земля є покривний льодовик.
3. Алеутські острови відділяють Берингове море від Тихого океану.
4. Найбільше діючих вулканів знаходиться в південній частині Північної Америки.
5. Гирло річки Міссісіпі лежить у межах Примексиканської низовини.
6. Ніагарський водоспад простяглося на річці Міссісіпі.
7. Велике Солоне озеро простяглося на сході материка.
8. Карибське море серед усіх морів Північної Америки знаходиться найближче до екватора.
9. Найбільша кількість льодовикових озер лежить на сході материка.

10. Мис Мерчісон — крайня північна точка Північної Америки.

11. Течія Західних Вітрів — найпотужніша холодна течія поблизу Північної Америки.

12. Найбільша кількість річок впадає в Північний Льодовитий океан.



Північна Америка


Варіант 1

По горизонталі:

1. Океан, який омиває східне узбережжя Північної Америки.
2. Височина Північної Америки.
3. В яке море Північного Льодовитого океану впадає річка Маккензі?
4. Північна крайня точка материка.
5. Півострів у північно-західній частині Північної Америки.
6. Півострів у південно-західній частині Північної Америки.

По вертикалі:

7. Рівнини, в межах яких розташовуються Великі Американські озера.
8. Одне з Великих Американських озер.
9. Річка басейну Тихого океану.
10. Гірська система Північної Америки.
11. Острови поблизу південно-східного узбережжя Північної Америки.
12. Протока, що сполучає море Баффіна з Атлантичним океаном.




Північна Америка
Варіант 2

По горизонталі:

1. Найпівденніше море Північної Америки.
2. Найдовша гірська система Північної Америки.
3. Південна крайня точка Північної Америки.
4. Ліва притока річки Міссісіпі.
5. Затока Атлантичного океану, яка омиває узбережжя материка.
6. Півострів на південному сході материка.
7. Острови в Атлантичному океані — центр «гірзного» трикутника.
8. Острів біля західного узбережжя материка.

По вертикалі:

9. Протока між Північною Америкою і Євразією.
10. Група льодовиково-тектонічних американських озер.
11. Одне з Великих Американських озер.
12. Низовина на півдні Північної Америки.



» **Тестові завдання на вибір однієї правильної відповіді**

1 Північна Америка

Завдання. Обрати одну правильну відповідь. Одне з Великих Американських озер:

А. Велике Солоне; В. Атабаска;
Б. Онтаріо; Г. Велике Ведмеже.

2 Північна Америка

Завдання. Обрати одну правильну відповідь. Найбільша гірська система Північної Америки:

А. Аппалачі; В. Хребет Брукс;
Б. Скелясті гори; Г. Кордильєри.

3 Північна Америка

Завдання. Обрати одну правильну відповідь. Затока, яка розташовується в північно-східній частині материка:

А. Мексиканська; В. Аляска;
Б. Гудзонова; Г. Каліфорнія.

4 Північна Америка

Завдання. Обрати одну правильну відповідь. Найбільший за площею острів Великих Антильських островів:

А. Гаїті; В. Куба;
Б. Ямайка; Г. Пуерто-Рико.

5 Північна Америка

Завдання. Обрати одну правильну відповідь. Найбільша річка басейну Північного Льодовитого океану:

А. Міссісіпі; В. Колумбія;
Б. Міссурі; Г. Маккензі.

6 Північна Америка

Завдання. Обрати одну правильну відповідь. Крайня північна точка материка:

А. Мерчісон; В. Сент-Чарльз;
Б. Мар'ято; Г. Принца Уельського.

7 Північна Америка

Завдання. Обрати одну правильну відповідь. Найпівденніший півострів материка:

А. Флорида; В. Юкатан;
Б. Лабрадор; Г. Аляска.

8 Північна Америка

Завдання. Обрати одну правильну відповідь. Протока, яка з'єднує море Ваффіна з Атлантичним океаном:

А. Берингова; В. Дейвісова;
Б. Флоридська; Г. Гудзонова.

9 Північна Америка

Завдання. Обрати одну правильну відповідь. Океан, який не омиває узбережжя Північної Америки:

А. Індійський; В. Північний Льодовитий;
Б. Тихий; Г. Атлантичний.

10 Північна Америка

Завдання. Обрати одну правильну відповідь. Материк, який відокремлений від Північної Америки Панамським каналом:

А. Африка; В. Євразія;
Б. Південна Америка; Г. Австралія.

11

Північна Америка

Завдання. Обрати одну правильну відповідь. Течія, яка не омиває узбережжя Північної Америки:

- А. Лабрадорська; В. Карибська;
Б. Гольфстрім; Г. Куросіо.

12

Північна Америка

Завдання. Обрати одну правильну відповідь. Найбільший за площею острів поблизу узбережжя Північної Америки:

- А. Ньюфаундленд; В. Баффінова Земля;
Б. Ґренландія; Г. Вікторія.

» **Тестові завдання на встановлення логічної послідовності**

1

Північна Америка

Завдання. Розташуйте острови послідовно за площею від найменшого:

- А. Ґренландія;
Б. Вікторія;
В. Баффінова Земля;
Г. Ньюфаундленд.

2

Північна Америка

Завдання. Визначте послідовність розташування гідрографічних об'єктів з півночі на південь:

- А. річка Ріо-Ґранде;
Б. річка Колумбія;
В. Велике Ведмеже озеро;
Г. море Вофорта.

3

Північна Америка

Завдання. Розташуйте форми рельєфу за абсолютною висотою від найвищої:

- А. Центральні рівнини;
В. Примексиканська низовина;
Б. Великі рівнини;
Г. Аппалачі.

4

Північна Америка

Завдання. Укажіть послідовно розташування географічних об'єктів із заходу на схід:

- А. острів Ванкувер;
Б. Велике Солоне озеро;
В. півострів Аляска;
Г. півострів Флорида.

5

Північна Америка

Завдання. В якому порядку від річки Святого Лаврентія розташовуються озера групи Великі американські озера?

- А. Ері; В. Онтаріо;
Б. Верхне; Г. Гурон.

6

Північна Америка

Завдання. Назвіть послідовно географічні об'єкти вздовж узбережжя Тихого океану з півночі на південь:

- А. Острів Ванкувер;
Б. півострів Каліфорнія;
В. мис Принца Уельського;
Г. Алеутські острови.

7

Північна Америка

Завдання. Назвіть послідовно за течією форми рельєфу Північної Америки, якими протікає річка Міссурі:

- А. Міссісіпська низовина;
Б. Скелясті гори;
В. Великі рівнини;
Г. Центральні рівнини.

8

Північна Америка

Завдання. Укажіть порядок розташування географічних об'єктів уздовж узбережжя Атлантичного океану з півдня на північ:

- А. Затока Св. Лаврентія;
Б. море Баффіна;
В. Сарґасове море;
Г. Дейвісова протока.

9

Північна Америка

Завдання. Розташуйте річки в порядку положення їхніх гирл з півночі на південь:

- | | |
|---------------|--------------|
| А. Юков; | В. Колумбія; |
| Б. Міссісіпі; | Г. Маккензі. |

10

Північна Америка

Завдання. Визначте послідовність розташування географічних об'єктів у порядку віддаленості від м. Вашингтон від найближчого:

- | | |
|-------------------|-------------------------------|
| А. Долина Смерті; | В. Аппалачі; |
| Б. Юков; | Г. Великі Американські озера. |

11

Північна Америка

Завдання. Розташуйте послідовно географічні об'єкти за розміром від найменшого:

- | |
|---------------------------|
| А. Гудзонова затока; |
| Б. затока Аляска; |
| В. Мексиканська затока; |
| Г. Каліфорнійська затока. |

12

Північна Америка

Завдання. Визначте послідовно порядок географічного положення форм рельєфу зі сходу на захід:

- | | |
|----------------|------------------------|
| А. Кордильєри; | В. Центральні рівнини; |
| Б. Аппалачі; | Г. Скелясті гори. |

» Тестові завдання на визначення відповідності

1

Північна Америка

Завдання. Установіть відповідність між дослідниками Північної Америки та географічними об'єктами, названими на їхню честь:

- | | |
|-----------------|-------------|
| 1. Г. Гудзон; | А. річка; |
| 2. О. Маккензі; | Б. затока; |
| 3. Д. Дейвіс; | В. озеро; |
| 4. В. Беринг; | Г. море; |
| | Д. протока. |

2

Північна Америка

Завдання. Укажіть відповідність між сторонами горизонту і мисами — крайніми точками Північної Америки:

- | | |
|-------------|-----------------------|
| 1. північ; | А. Мерчисон; |
| 2. південь; | Б. Мар'ято; |
| 3. захід; | В. Сент-Чарльз; |
| 4. схід; | Г. Принца Уельського; |
| | Д. Барроу. |

3

Північна Америка

Завдання. Визначте відповідність між течіями та їхніми характеристиками:

- | | |
|--------------------|--|
| 1. Лабрадорська; | А. тепла течія Тихого океану, що омиває південь материка; |
| 2. Каліфорнійська; | Б. холодна течія, що омиває найбільший за площею півострів материка; |
| 3. Аляскинська; | В. холодна течія, що омиває західне узбережжя; |
| 4. Гольфстрім; | Г. продовження Північної Тихоокеанської течії; |
| | Д. найпотужніша тепла течія. |

4

Північна Америка

Завдання. Знайдіть відповідність між островами та їхнім географічним положенням:

- | | |
|------------------|---|
| 1. Ванкувер; | А. знаходиться на сході материка; |
| 2. Куба; | Б. найбільший з Великих Антильських островів; |
| 3. Вікторія; | В. острів у Тихому океані; |
| 4. Ньюфаундленд; | Г. острів Канадського Арктичного архіпелагу; |
| | Д. найбільший за площею острів Землі. |

5

Північна Америка

Завдання. Укажіть відповідність між річками та їхніми характеристиками:

- | | |
|-----------------------|--|
| 1. Юкон; | А. з'єднує озеро Онтаріо із затокою Атлантичного океану; |
| 2. Святого Лаврентія; | Б. впадає в Каліфорнійську затоку; |
| 3. Колорадо; | В. найбільша річка материка; |
| 4. Міссісіпі; | Г. впадає в море Бофорта; |
| | Д. перетинає Північне полярне коло. |

6

Північна Америка

Завдання. Визначте відповідність між півостровами та об'єктами Світового океану, які їх омивають:

- | | |
|--------------|---|
| 1. Аляска; | А. Мексиканська затока, Карибська течія; |
| 2. Флорида; | Б. Каліфорнійська затока Тихого океану; |
| 3. Юкатан; | В. Берингове море Тихого океану; |
| 4. Лабрадор; | Г. Гудзонова затока і затока Святого Лаврентія; |
| | Д. Мексиканська затока і течія Гольфстрім. |

7

Північна Америка

Завдання. Установіть відповідність між формами рельєфу та їхніми характеристиками:

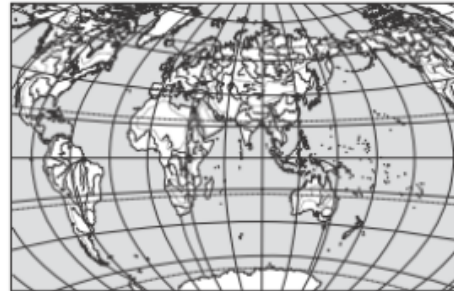
- | | |
|------------------------------|--|
| 1. Лаврентійська височина; | А. лежить частково на півострові Лабрадор; |
| 2. Центральні рівнини | Б. у межах форми рельєфу розташовуються Великі Американські озера; |
| 3. Великі рівнини; | В. у межах форми рельєфу простяглося гирло річки Міссісіпі; |
| 4. Примексиканська низовина; | Г. розташована по узбережжю Тихого океану; |
| | Д. лежить на схід від Скелястих гір. |

8

Північна Америка

Завдання. Знайдіть відповідність між океанами і морями, які є частинами цих океанів:

- | | |
|--------------------------|--------------------|
| 1. Північний Льодовитий; | А. Червоне море; |
| 2. Тихий; | Б. Саргасове море; |
| 3. Атлантичний; | В. море Бофорта; |
| | Г. Берингове море. |



9

Північна Америка

Завдання. Укажіть відповідність між басейнами стоку та водними об'єктами, які до них належать:

- | | |
|--|-------------------------|
| 1. басейн Тихого океану; | А. р. Колумбія; |
| 2. басейн Атлантичного океану; | Б. р. Міссурі; |
| 3. басейн Внутрішнього стоку; | В. р. Маккензі; |
| 4. басейн Північного Льодовитого океану; | Г. р. Замбезі; |
| | Д. Велике Солоне озеро. |

10

Північна Америка

Завдання. Установіть відповідність між річками і частинами Світового океану, в які вони впадають:

- | | |
|---------------|---------------------------|
| 1. Юкон; | А. Тихий океан; |
| 2. Колорадо; | Б. Каліфорнійська затока; |
| 3. Міссісіпі; | В. Гудзонова затока; |
| 4. Маккензі; | Г. Мексиканська затока; |
| | Д. море Бофорта. |

11

Північна Америка

Завдання. Визначте відповідність між озерами та їхніми характеристиками:

- | | |
|--------------------|--|
| 1. Велике Ведмеже; | А. найбільше з Великих Американських озер; |
| 2. Мічиган; | Б. з'єднане з р. Міссісіпі каналом; |
| 3. Велике Солоне; | В. розташоване в горах озеро; |
| 4. Верхнє; | Г. Льодовикове озеро на півночі материка; |
| | Д. лежить між р. Ніаґара і р. Святого Лаврентія. |

3

Північна Америка

Завдання. Які з перелічених річок належать до басейну Атлантичного океану:

- | | |
|----------------|-----------------------|
| 1. Огайо; | 4. Юкоп; |
| 2. Ріо-Ґранде; | 5. Святого Лаврентія; |
| 3. Колумбія; | 6. Маккензі. |

12

Північна Америка

Завдання. Знайдіть відповідність між течіями Світового океану і об'єктами, які вони омивають:

- | | |
|--------------------|----------------------|
| 1. Ґольфстрім; | А. о-в Ньюфаундленд; |
| 2. Каліфорнійська; | Б. п-ів Каліфорнія; |
| 3. Лабрадорська; | В. п-ів Флорида; |
| 4. Аляскінська; | Г. мис Мар'ято; |
| | Д. Алеутські о-ви. |

4

Північна Америка

Завдання. Оберіть озера, які належать до Великих Американських:

- | | |
|-----------------------|-------------------|
| 1. Велике Невільничє; | 4. Ері; |
| 2. Мічиган; | 5. Велике Солоне; |
| 3. Онтаріо; | 6. Атабаска. |

5

Північна Америка

Завдання. Які гірські системи розташовані на території Північної Америки?

- | | |
|----------------|---------------|
| 1. Кордильєри; | 4. Атлас; |
| 2. Альпи; | 5. Драконові; |
| 3. Скелясті; | 6. Каскадні. |

» Тестові завдання множинного вибору

1

Північна Америка

Завдання. Укажіть півострови Північної Америки.

- | | |
|---------------|----------------|
| 1. Кейп-Йорк; | 4. Арнем Ленд; |
| 2. Лабрадор; | 5. Флорида; |
| 3. Сомалі; | 6. Юкатан. |

6

Північна Америка

Завдання. Які рівнини знаходяться на території Північної Америки?

- | |
|------------------------------|
| 1. Центральні рівнини; |
| 2. Примексиканська низовина; |
| 3. Ла-Платська низовина; |
| 4. Великі рівнини; |
| 5. Центральна низовина; |
| 6. Оріноцька низовина. |



2

Північна Америка

Завдання. Визначте острови Північного Льодовитого океану:

- | | |
|--------------|---------------------|
| 1. Вікторія; | 4. Баффінова Земля; |
| 2. Куба; | 5. Ньюфаундленд; |
| 3. Ванкувер; | 6. Гренландія. |

7 Північна Америка

Завдання. Укажіть моря, які омивають узбережжя Північної Америки:

1. Карибське;	4. Середземне;
2. Червоне;	5. Берингове;
3. Коралове;	6. Бофорта.

10 Північна Америка

Завдання. Оберіть частини Світового океану, де можливе утворення коралових островів:

1. Карибське море;	4. Гудзонова затока;
2. Аляскінська затока;	5. Мексиканська затока;
3. Каліфорнійська затока;	6. Дейвісова протока.

8 Північна Америка

Завдання. Оберіть із запропонованих річки басейну Тихого океану:

1. Нельсон;	4. Юкон;
2. Колумбія;	5. Огайо;
3. Колорадо;	6. Міссурі.

11 Північна Америка

Завдання. Укажіть миси Північної Америки:

1. Сент-Чарльз;	4. Байрон;
2. Стіп-Пойнт;	5. Мерчїсон;
3. Альмаді;	6. Мар'ято.

9 Північна Америка

Завдання. Укажіть течії Атлантичного океану:

1. Гольфстрім;	4. Аляскінська;
2. Лабрадорська;	5. Карибська;
3. Каліфорнійська;	6. Північна Тихоокеанська.

12 Північна Америка

Завдання. Укажіть острови поблизу материка Північна Америка, на яких можливе утворення покривних льодовиків:

1. Куба;	4. Баффінова Земля;
2. Ямайка;	5. Гренландія;
3. Ньюфаундленд;	6. Елсмір.

Північна Америка
Картка 3

Завдання. Назвіть тип географічного об'єкта, назва якого вказана, та його географічне положення відносно до сторін горизонту.
Зразок: *Сент-Чарльз — мис, схід.*

1. Гудзонова.	5. Міссурі.
2. Аппалачі.	6. Баффіна.
3. Велике Солоне.	7. Берингова.
4. Маккензі.	8. Мерчїсон.
	9. Мічиган.
	10. Гольфстрім.
	11. Мак-Кінлі.
	12. Лаврентійська.

Північна Америка
Картка 4

Завдання. Назвіть тип географічного об'єкта, назва якого вказана, та його географічне положення відносно до сторін горизонту.
Зразок: *Сент-Чарльз — мис, схід.*

1. Лабрадор.	5. Кордильєри.
2. Онтаріо.	6. Ямайка.
3. Ніагара.	7. Юкатан.
4. Юкон.	8. Бофорта.
	9. Вікторія.
	10. Мар'ято.
	11. Ванкувер.
	12. Дейвісова.